

樂善堂楊仲明學校  
數學科一年級自學工作紙(六)

姓名： \_\_\_\_\_ ( ) 日期： \_\_\_\_\_

班別： 一年級 \_\_\_\_\_ 班 成績： \_\_\_\_\_

平面圖形 (四)

把圓圈塗黑和塗滿，以「●」表示正確答案。

1. 拼砌一個三角形需要多少條幾何條？

A. 2 條

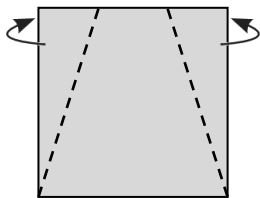
B. 3 條

C. 4 條

D. 5 條

看圖回答問題。

2. 把手工紙依虛線向後摺，可得出哪一種平面圖形？

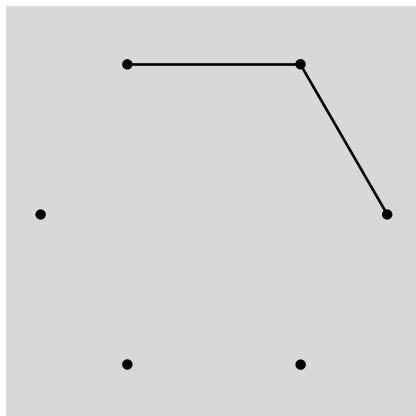


向後摺


可得出一個 \_\_\_\_\_ 形。

畫畫看。

3. 把點連起來，完成六邊形。




4. 利用物件，在下面印畫出兩個相同大小的圓形。




依指示在下面的釘點紙上畫出平面圖形。


5. 三角形



6. 四邊形



7. 六邊形



右面的圖案是由七巧板拼砌而成。

在圖案上填寫圖形板的編號。

8.

